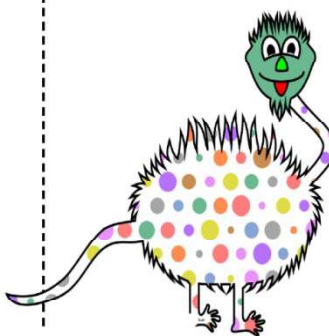

























Enigmes du jeudi 23 avril au lundi 27 avril

Enigme du jeudi 23 avril

Aide Hypolite à retrouver le nombre de points que rapporte chaque animal.





   






 +  +  +  +  = 23
 +  +  +  +  = 13
 +  +  +  = 16
 +  +  +  +  = 10

Enigme du vendredi 24 avril

Aide Jordi à trouver la bonne série de nombre pour ouvrir le cadenas de la valise.













Aucun chiffre correct.  1 5 7
 Un chiffre correct, bien placé.  8 7 1
 Aucun chiffre correct.  4 0 2
 Deux chiffres corrects, mal placés.  3 2 8
 Un chiffre correct, bien placé.  5 0 6

Enigme du lundi 27 avril

Gavroche n'arrive pas à trouver les nombres manquants de sa ruche. Aide-le à trouver la règle et écris le nombre.



 20
 12
 3  5
 2  4