

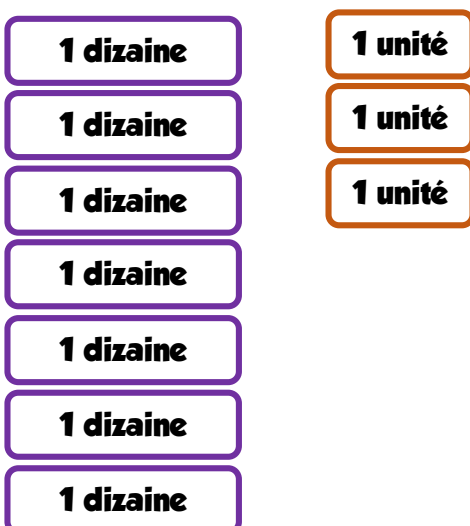
Exercice sur les soustractions

Etape 1 : Calculer $65 - 27$



$$65 - 27 =$$

Etape 2 : Calculer $73 - 49$



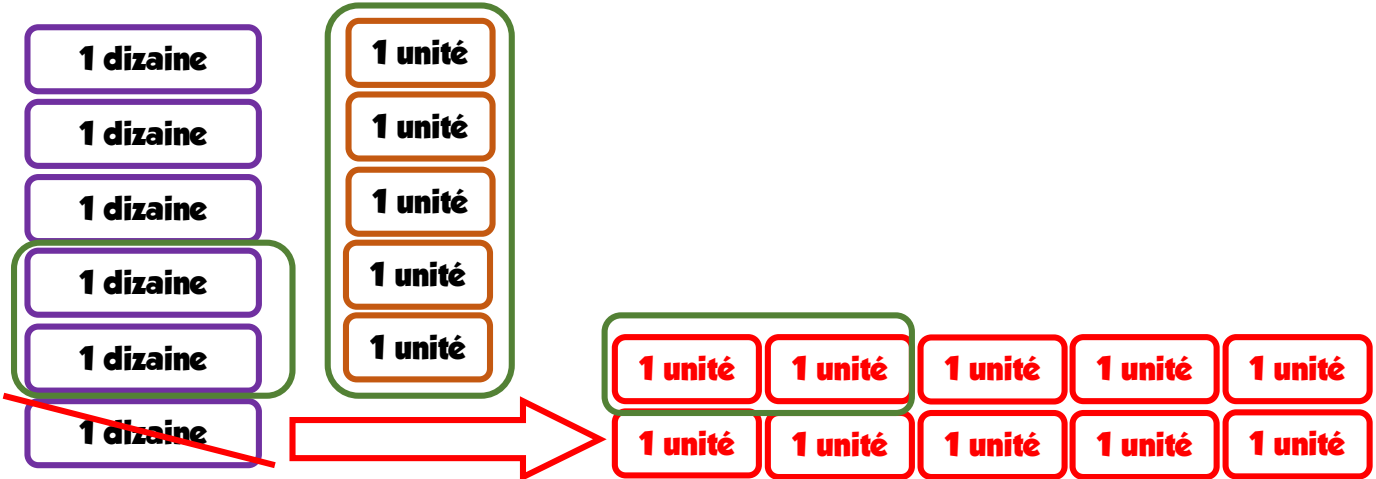
$$73 - 49 =$$

Etape 3 : Calculer $56 - 38$



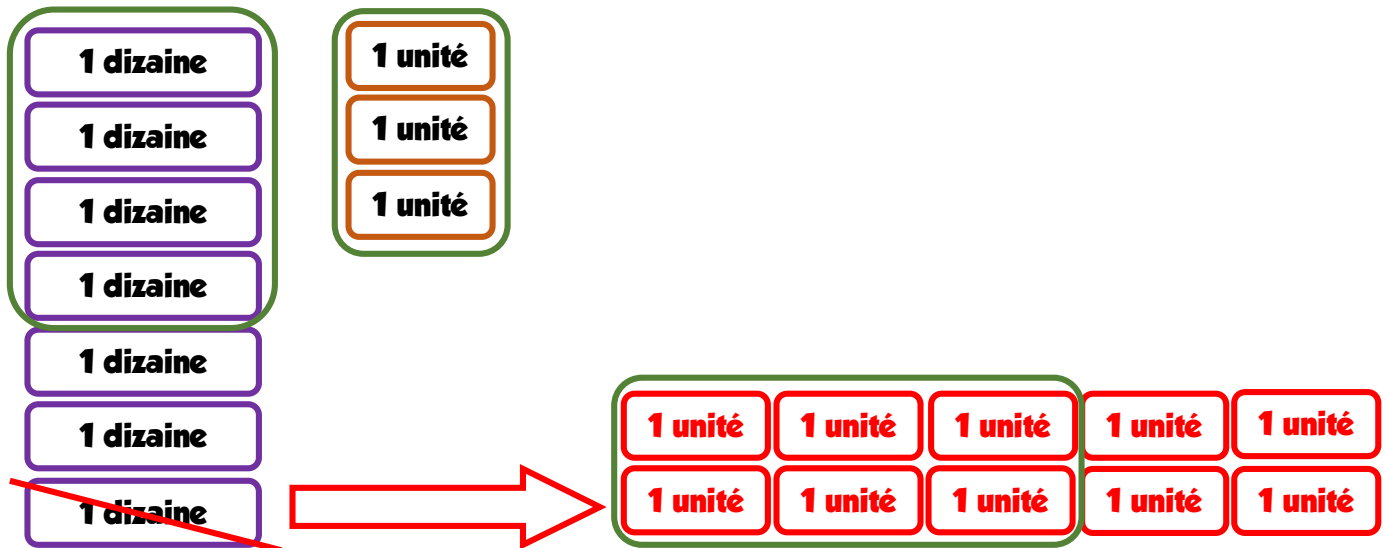
$$56 - 38 =$$

Etape 1 : Calculer $65 - 27$



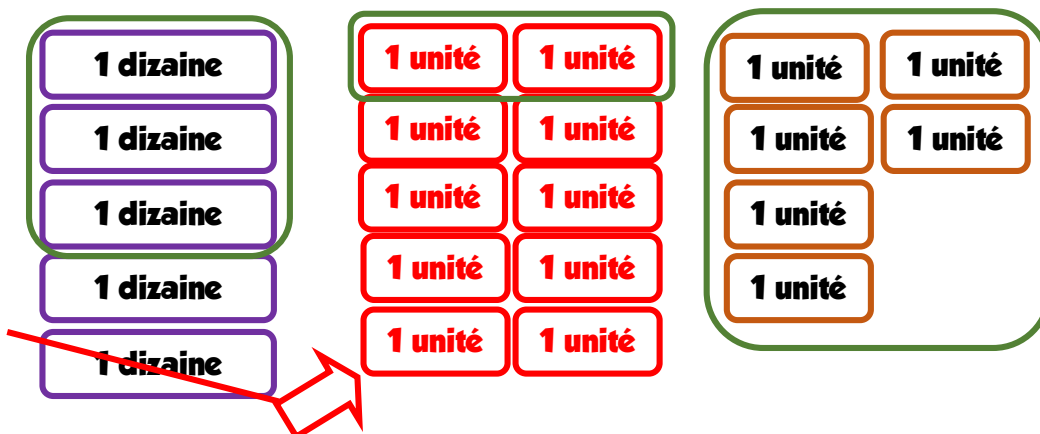
Je n'avais pas assez d'unités, j'ai donc cassé une dizaine pour récupérer 10 unités. Puis j'ai entouré 27, il me reste alors 38. $65 - 27 = 38$

Etape 2 : Calculer $73 - 49$



Je n'avais pas assez d'unités, j'ai donc cassé une dizaine pour récupérer 10 unités. Puis j'ai entouré 49, il me reste alors 24. $73 - 49 = 24$

Etape 3 : Calculer $56 - 38$



$$56 - 38 = 18$$