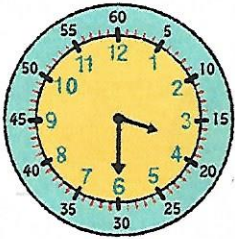



Je consolide mes connaissances


1 Complète.




Il est 3 h 30.....



Il est 9 h 15.....



Il est 11 h 20.....



Il est 12 h 45.....

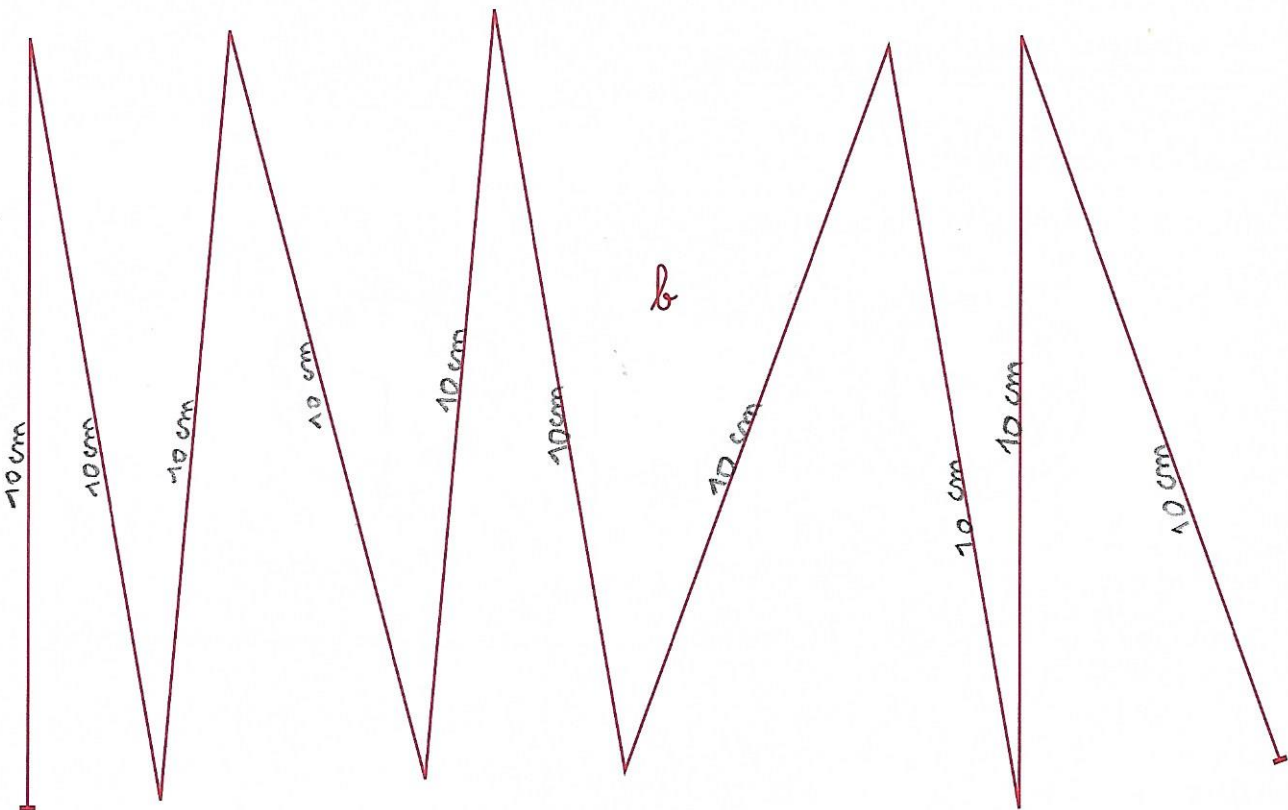
2 Pour t'aider, tu peux utiliser ton horloge en carton. Dans la classe d'Alex, la séance de sport commence à 8 heures et demie. Elle dure une heure.

À quelle heure finit la séance de sport? Elle finit à 9 h 30.....

3 Complète.



• Le segment **a** mesure 10 cm.....



• La ligne **b** mesure Elle mesure 100 cm soit 1 m.

Explique ta réponse: 10 x 10 = 100.....