

	ACTIVITÉS	COLLECTIF	INDIVIDUEL
Calcul mental	Doubles et moitiés	✓	
Réviser	Figures planes		1
Apprendre	Solides	✓	

Date : 15/05

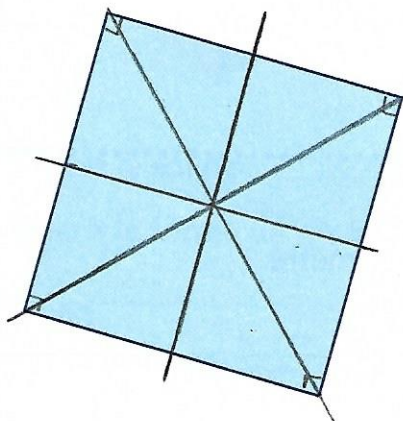
## Reconnaitre des figures

Utilise un gabarit d'angle droit et un double-décimètre.  
Tu peux faire des tracés sur les figures.

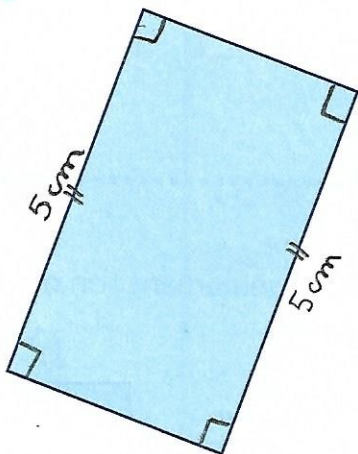
1 Écris le nom de la figure qui correspond à chaque message.

- J'ai 2 côtés qui mesurent 4 cm et je n'ai pas d'angle droit..... ► C'est la figure ...**F**....
- J'ai 4 angles droits et 2 côtés qui mesurent 5 cm. .... ► C'est la figure ...**B**....
- J'ai 4 angles droits et un seul axe de symétrie. .... ► C'est la figure ...**C**....
- J'ai seulement 2 angles droits et un seul axe de symétrie..... ► C'est la figure ...**D**....
- J'ai 4 angles droits et 4 axes de symétrie. .... ► C'est la figure ...**A**....

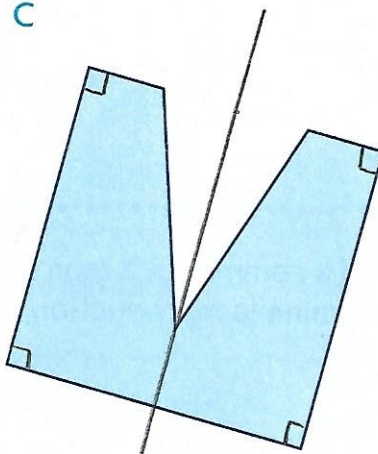
A



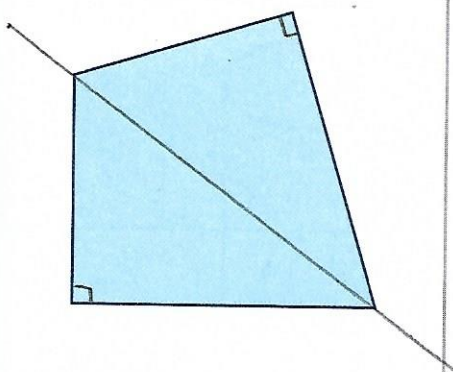
B



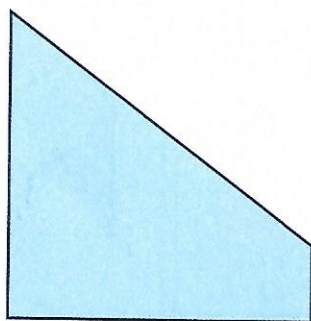
C



D



E



F

