


GUIDE ► BILAN	PRÉPARATION	BILAN	CONSOLIDATION
Angles droits, carrés, rectangles	A	1 à 3	1 à 5
Axe de symétrie	B	4 à 5	6 à 8


## Je prépare le bilan

À L'ORAL


A



Pour terminer la construction de ce carré, il faut un gabarit d'angle droit et un double-décimètre.



B



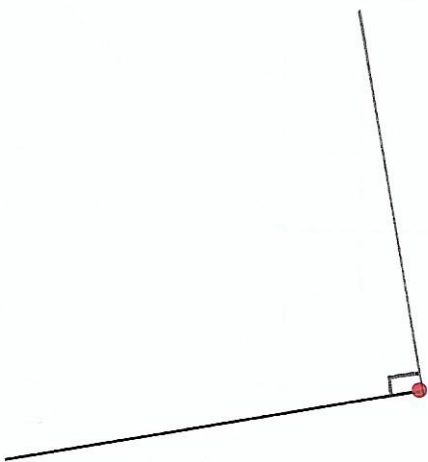
Date : 03/04

## Je fais le bilan

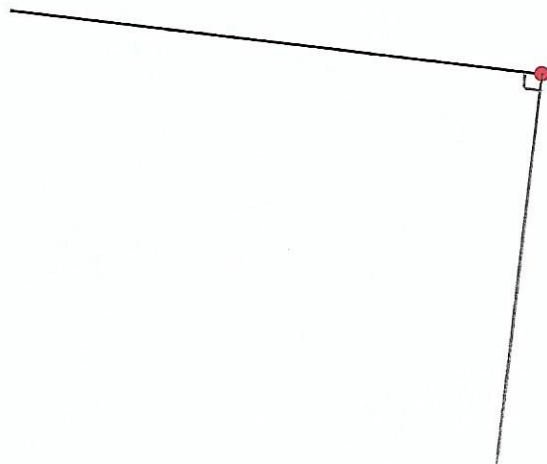
Trace un angle droit.

Sur chaque dessin, un côté de l'angle droit est déjà tracé et le sommet de l'angle droit est marqué par un point rouge.

1



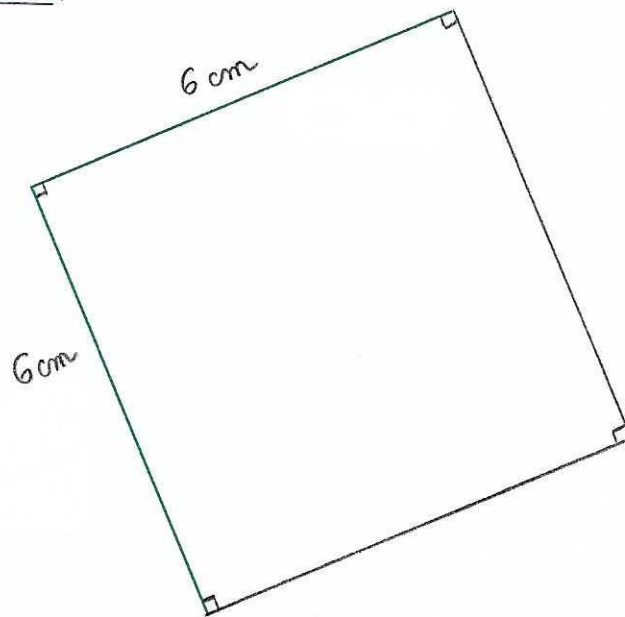
2



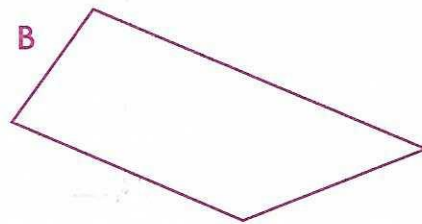
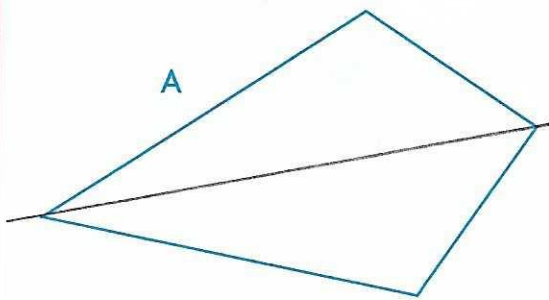
p. 49

1

- 3 Termine la construction du carré.  
Deux côtés sont déjà tracés.



- 4 Trace si c'est possible le ou les axes de symétrie de chaque figure.



- 5 Trace si c'est possible le ou les axes de symétrie de chaque figure.

